

الموسم الدراسي: 2019/2018	مادة الرياضيات	المستوى: 1
اسم المتعلم(ة):		الدورة: 1
النقطة على عشرة:		الفرض: 1

(2 ن)

1- أكمل بما يناسب:

	★ ★		☾ ☾ ☾ ☾
3	1

(2.5 ن)

2- أضع الرمز المناسب مكان النقط: (= ؛ > ؛ <)

2 3	1 2	4 4	3 4	1 0
----------	-----------	-----------	-----------	-----------

3- هل يوجد من الكراسي بقدر ما يوجد من الأطفال؟ أحيط الجواب الصحيح. 1ن:



لا

نعم

(1.5 ن)

4- أشطب العنصر الدخيل:

--	--	--	--

(1.5 ن)

5- أرتب الأعداد تصاعدياً:

4 - 1 - 3
..... < <











(1.5 ن)

6- أرتب الأعداد تنازلياً:

1 - 4 - 2
..... > >

الموسم الدراسي: 2019/2018	مادة النشاط العلمي	المستوى: 1
اسم المتعلم(ة):		الدورة: 1
النقطة:		الفرض: 1

1- أصلُ بَحَطَّ: [5 ن]

				
.
.
				

2- أَشْطَبُ عَلَى التَّصَرُّفِ الْخَاطِئِ: [1 ن]



3- أَكْمَلُ بِمَا يَلِي: [2.5 ن]

الْبَصَرُ - السَّمْعُ - الَّلَّمْسُ - الذَّوْقُ - الشَّمُّ

الْجِلْدُ حَاسَّةٌ وَالْعَيْنُ حَاسَّةٌ وَاللِّسَانُ حَاسَّةٌ

وَالْأَذُنُ حَاسَّةٌ وَالْأَنْفُ حَاسَّةٌ

4- أَضَعُ الْعَلَامَةَ (X) فِي الْخَانَةِ الْمُنَاسِبَةِ: [1.5 ن]

			
مِنْحٌ	كَعْكَةٌ	لَيْمُونَةٌ	
			طَعْمٌ حُلُوٌّ
			طَعْمٌ حَامِضٌ
			طَعْمٌ مَالِحٌ

الموسم الدراسي: 2018-2019	التربية الإسلامية	المستوى: 1
اسم التلميذ:		الدورة: 1
النقطة على 10:		الفرص: 1

1- أضع علامة (X) في الخانة المناسبة : (2.5 نقط)

لا	نعم	
		رَبِّي خَلَقَ الْإِنْسَانَ وَحْدَهُ
		رَبِّي خَلَقَنِي وَخَلَقَ الْعَالَمِينَ
		اللَّهُ رَبِّي
		رَبِّي لَا يُحِبُّنِي
		رَبِّي يُحِبُّنِي وَيُعْطِينِي نِعَمًا كَثِيرَةً

2- أضع علامة (X) في الخانة المناسبة : (2.5 نقط)

لا	نعم	
		نَبِيِّ اسْمُهُ عُمَرُ
		نَبِيِّ اسْمُهُ مُحَمَّدٌ
		سَيِّدُنَا مُحَمَّدٌ رَسُولٌ لِلْعَالَمِينَ
		أَقْتَدِي بِنَبِيِّ فِي تَعَامُلِهِ مَعَ النَّاسِ
		أَقْتَدِي بِنَبِيِّ فِي صَلَاتِي فَقَطْ

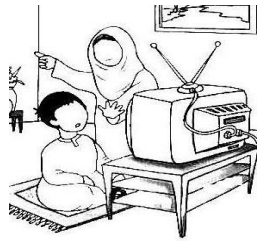




3- أصل بسهم : (1.5 نقط)

أَصْلِي كَمَا عَلَّمَنِي	*	اللَّهُ وَحْدَهُ	*
أَكْتُبُ كَمَا عَلَّمَنِي	*	أُسْتَاذِي	*
أَعْبُدُ	*	رَسُولُ اللَّهِ صَلَّى اللَّهُ عَلَيْهِ وَسَلَّمَ	*

4- أصل بسهم : (1 نقطة)

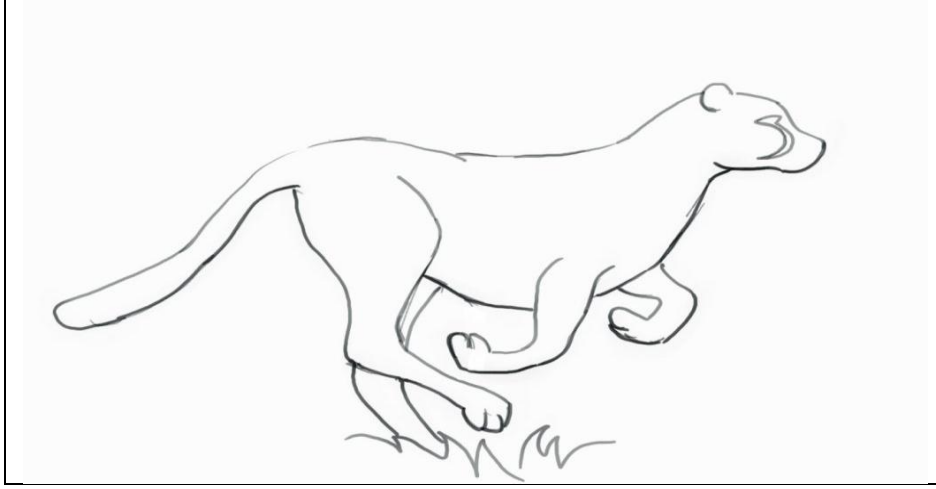
أَقُولُ لَا وَحْدَ اللَّهِ	*	صَلَّى اللَّهُ عَلَيْهِ وَسَلَّمَ	*
		لَا إِلَهَ إِلَّا اللَّهُ	*

5- أضع العلامة (X) تحت السلوك النافع والعلامة (0) تحت السلوك الضار : (2.5 نقط)


				
.....

الموسم الدراسي: 2018-2019	مادة التربية الفنية	المستوى: 1
اسم المتعلم(ة):		الدورة: 1
النقطة على 10:		الفرض: 1

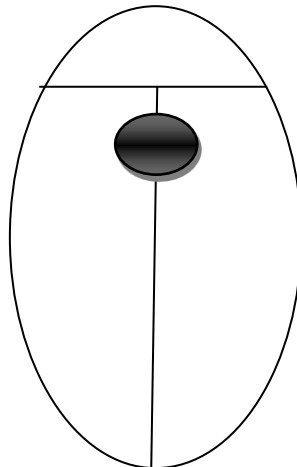
1- أكمل رسم النقط على جسم الفهد: (4 نقط)



2- أكمل رسم النقط على جلد الأفعى بأحجام مختلفة وموحدة اللون: (3 نقط)





3- أكمل رسم الدغسوقة أسفل إضافة النقط والأعضاء الناقصة وألونها: (3 نقط)



Ecole :	Contrôle continu en Français	Année scolaire: 2018 / 2019
Niveau : 1AEP	Contrôle : 1 semestre : 1	Nom :

1 Je relie les dessins suivants au nombre qui convient : (3p)



2

3

1

2 Je relie par une flèche : (5p)



Un garçon

Une école

Un stylo

Un

Une fille



3 Je complète et je

